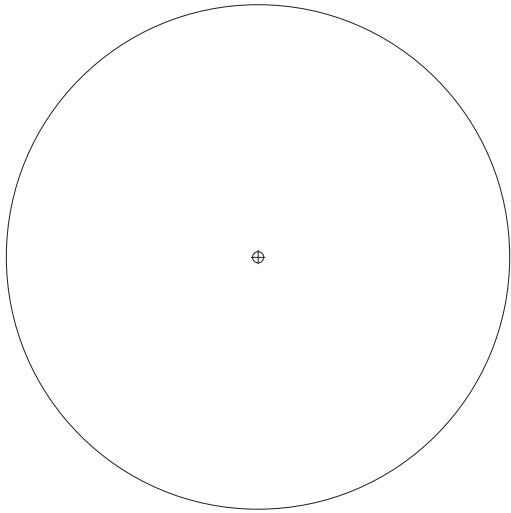
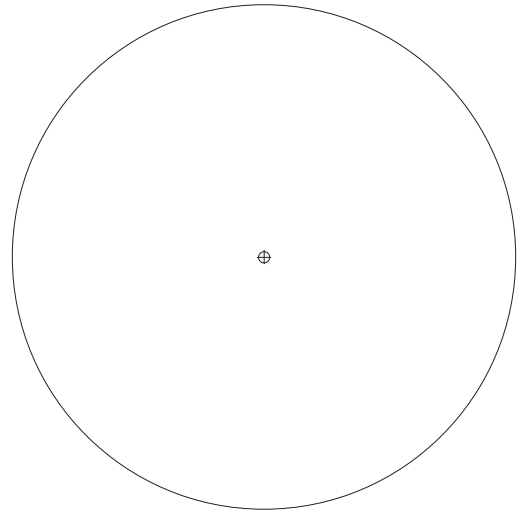


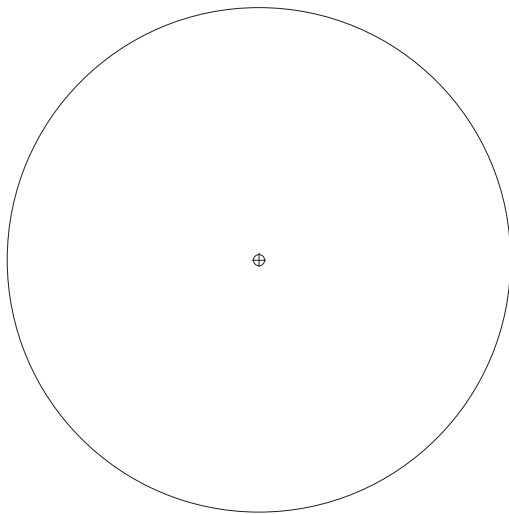
Dividir la circunferencia en 6 partes iguales.  
Inscribir un triángulo equilátero y un hexágono regular.



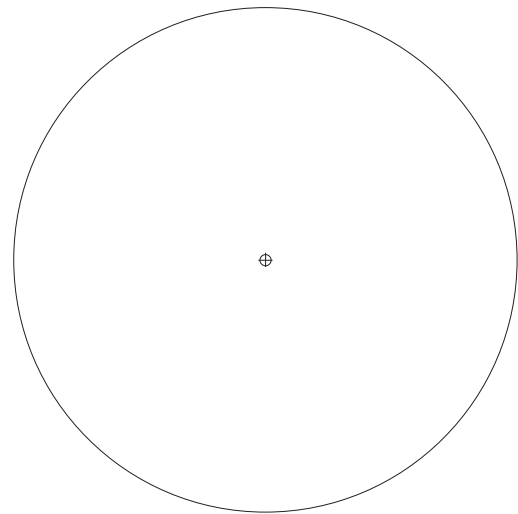
Dividir la circunferencia en 8 partes iguales.  
Inscribir un cuadrado y un octógono regular.



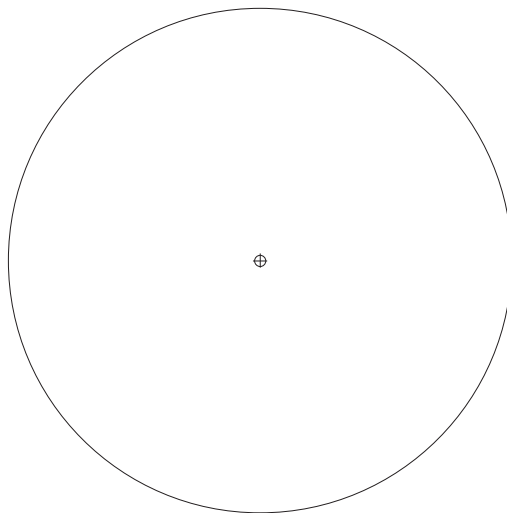
Dividir la circunferencia en 7 partes iguales.  
Inscribir un heptágono regular.



Dividir la circunferencia en 5 partes iguales.  
Inscribir un pentágono regular.



Dividir la circunferencia en 7 partes iguales utilizando el método general.  
Dibujar los posibles polígonos estrellados.



NOMBRE:

CURSO:



Construir el pentágono regular de lado AB.




Construir el octógono regular de lado AB.




Construir un triángulo equilátero y un hexágono regular dado el lado AB.



Construir un heptágono regular de lado AB.



Construir un octógono regular de lado AB, utilizando el método general.



NOMBRE:

CURSO:

